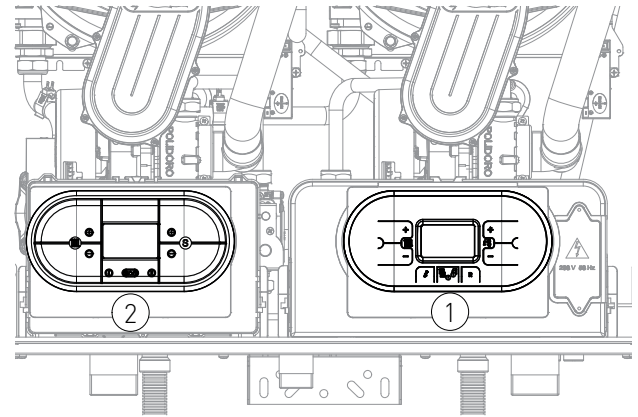
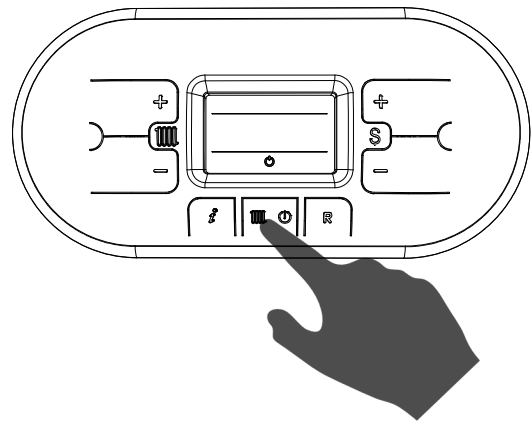


2.1.4. ΠΡΟΓΡΑΜΜΑΤΙΣΜΟΣ ΠΑΡΑΜΕΤΡΩΝ

Όλες οι τιμές των παραμέτρων τροποποιούνται διαμέσου του πίνακα ελέγχου master '1' (βλέπε εικόνα) εκτός των παραμέτρων για τις οποίες είναι δυνατό να ορίσουμε την ισχύ της κάθε μονάδας (P00, P10, P11, P12, P13 e P14), σε αυτή την περίπτωση κάνουμε τη ρύθμιση διαμέσου του πίνακα ελέγχου slave '2' (βλέπε εικόνα).

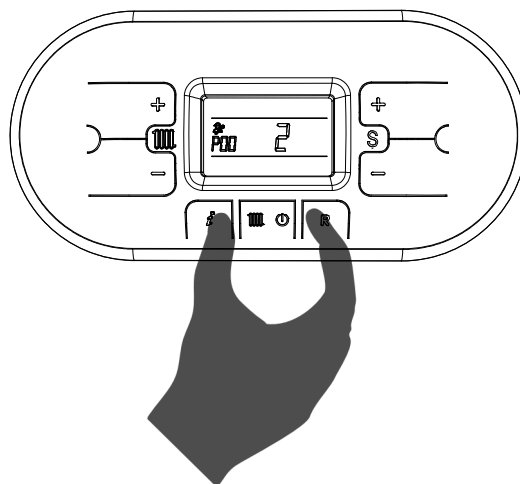


Η τροποποίηση των τιμών των παραμέτρων επιτυγχάνεται ακολουθώντας την εξής διαδικασία:

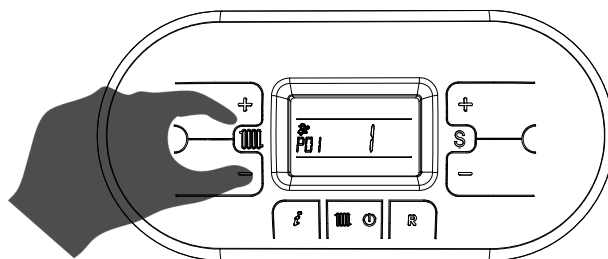


1. Πιέζοντας το μπουτόν 'OFF' επιλέγετε τη λειτουργία OFF και προβάλλεται το σύμβολο 'OFF'.

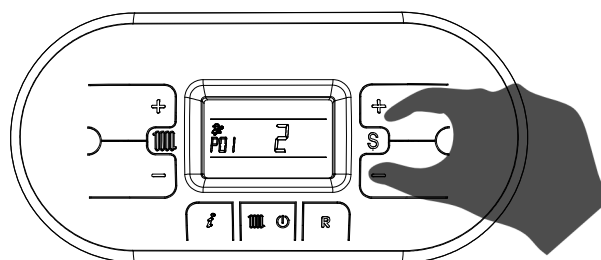
2. Πιέζετε ταυτόχρονα τα μπουτόν 'i' & 'R' και περιμένετε να προβληθεί στη οθόνη το σύμβολο 'P00' με την ένδειξη 'P00', και αφήνετε τα μπουτόν 'i' & 'R'.




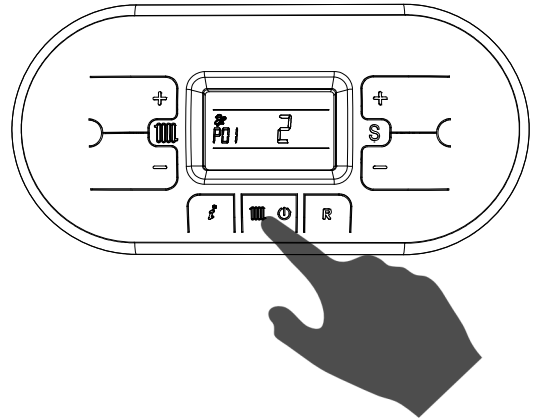
3. Με τα μπουτόν '+' & '-' της θέρμανσης επιλέγετε την παράμετρο που θέλετε να τροποποιήσετε.






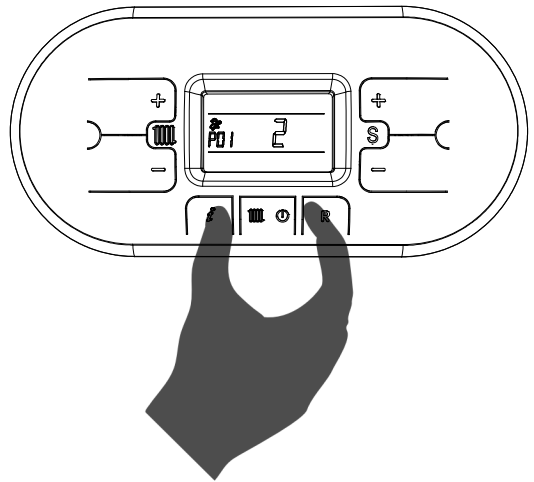
4. Με τα μπουτόν '+' & '-' του συμβόλου 'S' ρυθμίζετε την τιμή της παραμέτρου.




5. Πιέζετε το μπουτόν  για επιβεβαίωση και περιμένετε την οθόνη να σταματήσει να αναβοσβύνει ώστε να ενεργοποιηθεί η ρύθμισή σας.



6. Per uscire dal menù parametri tenere premuti contemporaneamente i tasti  e  e attendere che sul display appaia il simbolo .



7. Για να αποθηκευτούν οι τροποποιήσεις που έγιναν διαμέσου του πίνακα ελέγχου master και στην πλακέτα slave θα πρέπει να κλείσετε την ηλεκτρική τροφοδοσία του λέβητα και να την ενεργοποιήσετε εκ νέου. Περιμένετε τον απαραίτητο χρόνο για την ολοκλήρωση της διαδικασίας, περίπου 30 δευτερόλεπτα, μέχρι να προβληθεί στην οθόνη το σύμβολο .



2.1.5. ΠΙΝΑΚΑΣ ΠΑΡΑΜΕΤΡΩΝ DIGITECH CS (ΜΙΑΗ406)

ΠΑΡΑΜΕΤΡΟΣ	ΠΕΡΙΓΡΑΦΗ	ΡΥΘΜΙΣΗ	ΛΕΙΤΟΥΡΓΙΑ
P00	ΕΠΙΛΟΓΗ ΜΟΝΤΕΛΟΥ ΛΕΒΗΤΑ (ΤΡΟΠΟΠΟΙΕΙΤΕ ΤΗΝ ΤΙΜΗ ΤΗΣ ΠΑΡΑΜΕΤΡΟΥ ΚΑΙ ΣΤΟΥΣ ΔΥΟ ΠΙΝΑΚΕΣ ΕΛΕΓΧΟΥ MASTER ΚΑΙ SLAVE, ΒΛΕΠΕ ΚΕΦΑΛΑΙΟ 'ΠΡΟΓΡΑΜΜΑΤΙΣΜΟΣ ΠΑΡΑΜΕΤΡΩΝ'	0 - 3	0 = R1K 18_24-R2K 24-R2KA 24 (ΣΕ ΟΛΑ ΤΑ ΜΟΝΤΕΛΑ) 1 = R1K 25_28-R2K 28-R2KA 28 (ΣΕ ΟΛΑ ΤΑ ΜΟΝΤΕΛΑ) 2 = R1K 34-R2K 34-R2KA 34 (ΣΕ ΟΛΑ ΤΑ ΜΟΝΤΕΛΑ) 3 = R1K 50 (ΓΙΑ R1K 100 ΟΡΙΖΕΤΕ ΤΗΝ ΤΙΜΗ ΚΑΙ ΣΤΙΣ ΔΥΟ ΜΟΝΑΔΕΣ)
P01	ΕΠΙΛΟΓΗ ΤΥΠΟΥ ΛΕΒΗΤΑ	0 - 1	0 = ΜΕ ΣΥΣΤΗΜΑ ΤΡΟΦΟΔΟΣΙΑΣ ΑΠΟΜΑΚΡΥΣΜΕΝΟΥ ΜΠΟΙΛΕΡ (ΕΡΓ.ΡΥΘΜΙΣΗ, ΜΕ Z.N.X. ΔΙΑΧΕΙΡΙΖΟΜΕΝΟ ΑΠΟ MODBUS) ΓΙΑ ΤΡΟΠΟΠΟΙΗΣΗ ΤΟΥ ΤΡΟΠΟΥ ΛΕΙΤΟΥΡΓΙΑΣ Z.N.X. ΑΛΛΑΖΕΤΕ ΤΗΝ ΤΙΜΗ ΤΗΣ ΠΑΡΑΜΕΤΡΟΥ P32 1 = ΜΟΝΟ ΘΕΡΜΑΝΣΗ
P02	ΕΠΙΛΟΓΗ ΤΥΠΟΥ ΑΕΡΙΟΥ ΠΡΟΣΟΧΗ: ΠΡΙΝ ΑΛΛΑΞΕΤΕ ΤΗΝ ΤΙΜΗ ΤΗΣ ΠΑΡΑΜΕΤΡΟΥ ΔΙΑΒΑΣΤΕ ΤΙΣ ΟΔΗΓΙΕΣ ΤΟΥ ΚΕΦΑΛΑΙΟΥ 'ΜΕΤΑΤΡΟΠΗ ΤΥΠΟΥ ΑΕΡΙΟΥ''	0 - 1	0 = Φ.ΑΕΡΙΟ 1 = ΥΓΡΑΕΡΙΟ
P03	ΘΕΡΜΟΚΡΑΣΙΑ ΘΕΡΜΑΝΣΗΣ ΣΕ ΠΕΡΙΠΤΩΣΗ ΠΟΥ Ο ΛΕΒΗΤΑΣ ΤΡΟΦΟΔΟΤΕΙ ΑΜΕΣΑ ΕΓΚΑΤΑΣΤΑΣΗ ΧΑΜΗΛΗΣ ΘΕΡΜΟΚΡΑΣΙΑΣ ΠΡΕΠΕΙ ΝΑ ΕΓΚΑΤΑΣΤΑΘΕΙ ΘΕΡΜΟΣΤΑΤΗΣ ΑΣΦΑΛΕΙΑΣ ΣΤΗΝ ΑΝΑΧΩΡΗΣΗ ΩΣΤΕ ΝΑ ΔΙΑΚΟΠΕΙ Η ΛΕΙΤΟΥΡΓΙΑ ΤΟΥ ΛΕΒΗΤΑ ΑΝ Η ΘΕΡΜΟΚΡΑΣΙΑ ΑΝΑΧΩΡΗΣΗΣ ΕΙΝΑΙ ΥΨΗΛΗ	0 - 1	0 = STANDARD (30-80 °C) (ΕΡΓ.ΡΥΘΜΙΣΗ) 1 = ΜΕΙΩΜΕΝΗ (25-45 °C) ΓΙΑ ΕΝΔΟΔΑΠΕΔΙΕΣ ΕΓΚΑΤΑΣΤΑΣΕΙΣ



2.ΠΡΩΤΗ ΕΝΑΥΣΗ

ΠΑΡΑΜΕΤΡΟΣ	ΠΕΡΙΓΡΑΦΗ	ΡΥΘΜΙΣΗ	ΛΕΙΤΟΥΡΓΙΑ
P04	ΧΡΟΝΟΣ ΜΕΓΙΣΤΟΠΟΙΗΣΗΣ ΙΣΧΥΟΣ ΘΕΡΜΑΝΣΗΣ ΔΙΑΜΕΣΟΥ ΑΥΤΗΣ ΤΗΣ ΠΑΡΑΜΕΤΡΟΥ ΟΡΙΖΕΤΑΙ Ο ΧΡΟΝΟΣ, ΣΕ ΦΑΣΗ ΕΝΑΥΣΗΣ, ΠΟΥ ΧΡΕΙΑΖΕΤΑΙ Ο ΛΕΒΗΤΑΣ ΓΙΑ ΝΑ ΦΤΑΣΕΙ ΤΗ ΜΕΓΙΣΤΗ ΠΡΟΕΠΙΛΕΓΜΕΝΗ ΙΣΧΥ ΘΕΡΜΑΝΣΗΣ	0 - 5	0 = (ΑΠΕΝΕΡΓΟΠΟΙΗΜΕΝΗ) 1 = 50 ΔΕΥΤΕΡΟΛΕΠΤΑ (ΕΡΓΟΣΤΑΣΙΑΚΗ ΡΥΘΜΙΣΗ) 2 = 100 ΔΕΥΤΕΡΟΛΕΠΤΑ 3 = 200 ΔΕΥΤΕΡΟΛΕΠΤΑ 4 = 400 ΔΕΥΤΕΡΟΛΕΠΤΑ 5 = 600 ΔΕΥΤΕΡΟΛΕΠΤΑ
P05	ΧΡΟΝΟΣ ΕΝΑΥΣΗΣ ΠΡΩΤΕΥΟΥΣΑΣ ΜΟΝΑΔΑΣ ΔΙΑΜΕΣΟΥ ΑΥΤΗΣ ΤΗΣ ΠΑΡΑΜΕΤΡΟΥ ΟΡΙΖΕΤΑΙ Ο ΧΡΟΝΟΣ ΚΑΤΑ ΤΟΝ ΟΠΟΙΟ ΜΙΑ ΜΟΝΑΔΑ ΓΙΝΕΤΑΙ ΠΡΩΤΕΥΟΥΣΑ ΜΟΝΑΔΑ ΚΑΤΑ ΤΗΝ ΕΝΑΥΣΗ, ΜΕΤΑ ΤΗΝ ΠΑΡΟΔΟ ΤΟΥ ΟΠΟΙΟΥ ΓΙΝΕΤΑΙ ΕΝΑΛΛΑΓΗ ΣΤΗΝ ΕΠΟΜΕΝΗ ΜΟΝΑΔΑ	0 - 255	ΤΙΜΗ ΣΕ ΩΡΕΣ (ΕΡΓ.ΡΥΘΜΙΣΗ ΣΤΙΣ 50 ΩΡΕΣ)
P06	ΑΠΕΝΕΡΓΟΠΟΙΗΣΗ ΜΙΑΣ ΜΟΝΑΔΑΣ	1 - 3	1 = ΕΝΕΡΓΗ ΜΟΝΟ MASTER 2 = ΕΝΕΡΓΗ ΜΟΝΟ SLAVE 3 = ΕΝΕΡΓΕΣ ΚΑΙ ΟΙ ΔΥΟ
P07	ΧΡΟΝΟΠΡΟΓΡΑΜΜΑΤΙΣΜΟΣ ΘΕΡΜΑΝΣΗΣ ΔΙΑΜΕΣΟΥ ΑΥΤΗΣ ΤΗΣ ΠΑΡΑΜΕΤΡΟΥ ΟΡΙΖΕΤΕ ΤΟ ΧΡΟΝΙΚΟ ΔΙΑΣΤΗΜΑ ΚΑΤΑ ΤΟ ΟΠΟΙΟ Ο ΚΑΥΣΤΗΡΑΣ ΜΕΝΕΙ ΑΝΕΝΕΡΓΟΣ ΕΦΟΣΩΝ Η ΘΕΡΜΟΚΡΑΣΙΑ ΘΕΡΜΑΝΣΗΣ ΕΦΤΑΣΕ ΤΗΝ ΤΙΜΗ ΠΟΥ ΕΠΕΛΕΞΕ Ο ΧΡΗΣΤΗΣ	0 - 90	ΤΙΜΗ ΣΕ ΠΟΛΛΑΠΛΑΣΙΑ ΤΩΝ 5 ΔΕΥΤΕΡΟΛΕΠΤΩΝ (ΕΡΓΟΣΤΑΣΙΑΚΗ ΡΥΘΜΙΣΗ 36 X 5 = 180 ΔΕΥΤΕΡΟΛΕΠΤΑ)
P08	ΧΡΟΝΟΠΡΟΓΡΑΜΜΑΤΙΣΜΟΣ ΑΝΑΚΥΚΛΟΦΟΡΙΑΣ ΘΕΡΜΑΝΣΗΣ ΜΕΣΩ ΑΥΤΗΣ ΤΗΣ ΠΑΡΑΜΕΤΡΟΥ ΟΡΙΖΕΤΕ ΤΗ ΔΙΑΡΚΕΙΑ ΛΕΙΤΟΥΡΓΙΑΣ ΤΟΥ ΚΥΚΛΟΦΟΡΗΤΗ ΣΤΗ ΘΕΡΜΑΝΣΗ ΑΦΟΥ ΣΒΗΣΕΙ Ο ΚΑΥΣΤΗΡΑΣ ΜΕ ΕΝΤΟΛΗ ΤΟΥ ΘΕΡΜΟΣΤΑΤΗ ΧΩΡΟΥ	0 - 90	ΤΙΜΗ ΣΕ ΠΟΛΛΑΠΛΑΣΙΑ ΤΩΝ 5 ΔΕΥΤΕΡΟΛΕΠΤΩΝ (ΕΡΓΟΣΤΑΣΙΑΚΗ ΡΥΘΜΙΣΗ 36 X 5 = 180 ΔΕΥΤΕΡΟΛΕΠΤΑ)
P09	ΧΡΟΝΟΠΡΟΓΡΑΜΜΑΤΙΣΜΟΣ ΑΝΑΚΥΚΛΟΦΟΡΙΑΣ Ζ.Ν.Χ./ΜΠΟΙΛΕΡ (ΜΟΝΟ ΜΕ ΣΥΣΤΗΜΑ ΤΡΟΦΟΔΟΣΙΑΣ ΑΠΟΜΑΚΡΥΣΜΕΝΟΥΗ ΜΠΟΙΛΕΡ). ΜΕΣΩ ΑΥΤΗΣ ΤΗΣ ΠΑΡΑΜΕΤΡΟΥ ΟΡΙΖΕΤΕ ΤΗ ΔΙΑΡΚΕΙΑ ΛΕΙΤΟΥΡΓΙΑΣ ΤΟΥ ΚΥΚΛΟΦΟΡΗΤΗ ΣΤΟ ΝΕΡΟ ΧΡΗΣΗΣ,ΜΕΤΑ ΤΟ ΚΛΕΙΣΙΜΟ ΤΗΣ ΒΡΥΣΗΣ	0 - 90	ΤΙΜΗ ΣΕ ΠΟΛΛΑΠΛΑΣΙΑ ΤΩΝ 5 ΔΕΥΤΕΡΟΛΕΠΤΩΝ (ΕΡΓΟΣΤΑΣΙΑΚΗ ΡΥΘΜΙΣΗ 18 X 5 = 90 ΔΕΥΤΕΡΟΛΕΠΤΑ)



ΠΑΡΑΜΕΤΡΟΣ	ΠΕΡΙΓΡΑΦΗ	ΡΥΘΜΙΣΗ	ΛΕΙΤΟΥΡΓΙΑ
P10	<p>ΡΥΘΜΙΣΗ ΕΛΑΧΙΣΤΗΣ ΤΑΧΥΤΗΤΑΣ ΑΝΕΜΙΣΤΗΡΑ</p> <p>ΜΕΣΩ ΑΥΤΗΣ ΤΗΣ ΠΑΡΑΜΕΤΡΟΥ ΟΡΙΖΕΤΕ ΤΗΝ ΕΛΑΧΙΣΤΗ ΤΑΧΥΤΗΤΑ ΤΟΥ ΑΝΕΜΙΣΤΗΡΑ ΠΟΥ ΑΝΤΙΣΤΟΙΧΕΙ ΣΤΗΝ ΕΛΑΧΙΣΤΗ ΙΣΧΥ ΤΟΥ ΚΑΥΣΤΗΡΑ. Η ΤΙΜΗ ΕΙΝΑΙ ΠΡΟΡΥΘΜΙΣΜΕΝΗ ΣΕ ΣΧΕΣΗ ΜΕ ΤΗΝ ΟΡΙΣΜΕΝΗ ΙΣΧΥ (ΒΛΕΠΕ ΠΑΡΑΜΕΤΡΟ Ρ00) ΚΑΙ ΤΟΝ ΤΥΠΟ ΑΕΡΙΟΥ (ΒΛΕΠΕ ΠΑΡΑΜΕΤΡΟ Ρ02)</p> <p>(ΤΡΟΠΟΠΟΙΕΙΤΕ ΤΗΝ ΤΙΜΗ ΤΗΣ ΠΑΡΑΜΕΤΡΟΥ ΚΑΙ ΣΤΟΥΣ ΔΥΟ ΠΙΝΑΚΕΣ ΕΛΕΓΧΟΥ MASTER ΚΑΙ SLAVE, ΒΛΕΠΕ ΚΕΦΑΛΑΙΟ 'ΠΡΟΓΡΑΜΜΑΤΙΣΜΟΣ ΠΑΡΑΜΕΤΡΩΝ')</p>	<p>38 - ΤΙΜΗ ΠΟΥ ΟΡΙΣΤΗΚΕ ΣΤΗ ΠΑΡΑΜΕΤΡΟ P11</p>	<p>ΤΙΜΗ ΣΕ HERTZ (1HZ = 30 RPM)</p>
P11	<p>ΡΥΘΜΙΣΗ ΜΕΓΙΣΤΗΣ ΤΑΧΥΤΗΤΑΣ ΑΝΕΜΙΣΤΗΡΑ</p> <p>ΜΕΣΩ ΑΥΤΗΣ ΤΗΣ ΠΑΡΑΜΕΤΡΟΥ ΟΡΙΖΕΤΕ ΤΗΝ ΜΕΓΙΣΤΗ ΤΑΧΥΤΗΤΑ ΤΟΥ ΑΝΕΜΙΣΤΗΡΑ ΠΟΥ ΑΝΤΙΣΤΟΙΧΕΙ ΣΤΗΝ ΜΕΓΙΣΤΗ ΙΣΧΥ ΤΟΥ ΚΑΥΣΤΗΡΑ. Η ΤΙΜΗ ΕΙΝΑΙ ΠΡΟΡΥΘΜΙΣΜΕΝΗ ΣΕ ΣΧΕΣΗ ΜΕ ΤΗΝ ΟΡΙΣΜΕΝΗ ΙΣΧΥ (ΒΛΕΠΕ ΠΑΡΑΜΕΤΡΟ Ρ00) ΚΑΙ ΤΟΝ ΤΥΠΟ ΑΕΡΙΟΥ (ΒΛΕΠΕ ΠΑΡΑΜΕΤΡΟ Ρ02)</p> <p>(ΤΡΟΠΟΠΟΙΕΙΤΕ ΤΗΝ ΤΙΜΗ ΤΗΣ ΠΑΡΑΜΕΤΡΟΥ ΚΑΙ ΣΤΟΥΣ ΔΥΟ ΠΙΝΑΚΕΣ ΕΛΕΓΧΟΥ MASTER ΚΑΙ SLAVE, ΒΛΕΠΕ ΚΕΦΑΛΑΙΟ 'ΠΡΟΓΡΑΜΜΑΤΙΣΜΟΣ ΠΑΡΑΜΕΤΡΩΝ')</p>	<p>ΤΙΜΗ ΠΟΥ ΟΡΙΣΤΗΚΕ ΣΤΗ ΠΑΡΑΜΕΤΡΟ P10 - 290</p>	<p>ΤΙΜΗ ΣΕ HERTZ (1HZ = 30 RPM)</p>
P12	<p>ΡΥΘΜΙΣΗ ΕΛΑΧΙΣΤΗΣ ΤΑΧΥΤΗΤΑΣ ΑΝΕΜΙΣΤΗΡΑ ΣΤΗ ΘΕΡΜΑΝΣΗ</p> <p>ΜΕΣΩ ΑΥΤΗΣ ΤΗΣ ΠΑΡΑΜΕΤΡΟΥ ΟΡΙΖΕΤΕ ΤΗΝ ΕΛΑΧΙΣΤΗ ΤΑΧΥΤΗΤΑ ΤΟΥ ΑΝΕΜΙΣΤΗΡΑ ΣΤΗ ΘΕΡΜΑΝΣΗ ΠΟΥ ΑΝΤΙΣΤΟΙΧΕΙ ΣΤΗ ΕΛΑΧΙΣΤΗ ΙΣΧΥ ΤΟΥ ΚΑΥΣΤΗΡΑ ΟΤΑΝ ΓΙΝΕΤΑΙ ΕΠΙΛΟΓΗ ΛΕΙΤΟΥΡΓΙΑΣ ΘΕΡΜΑΝΣΗΣ. [ΒΛΕΠΕ ΚΕΦΑΛΑΙΟ 'ΔΙΑΓΡΑΜΜΑ ΘΕΡΜΙΚΟΥ ΦΟΡΤΙΟΥ (KW)- ΣΥΧΝΟΤΗΤΑΣ ΑΝΕΜΙΣΤΗΡΑ (HZ)']</p> <p>Η ΤΙΜΗ ΕΙΝΑΙ ΠΡΟΡΥΘΜΙΣΜΕΝΗ ΣΕ ΣΧΕΣΗ ΜΕ ΤΗΝ ΟΡΙΣΜΕΝΗ ΙΣΧΥ (ΒΛΕΠΕ ΠΑΡΑΜΕΤΡΟ Ρ00) ΚΑΙ ΤΟΝ ΤΥΠΟ ΑΕΡΙΟΥ (ΒΛΕΠΕ ΠΑΡΑΜΕΤΡΟ Ρ02)</p> <p>(ΤΡΟΠΟΠΟΙΕΙΤΕ ΤΗΝ ΤΙΜΗ ΤΗΣ ΠΑΡΑΜΕΤΡΟΥ ΚΑΙ ΣΤΟΥΣ ΔΥΟ ΠΙΝΑΚΕΣ ΕΛΕΓΧΟΥ MASTER ΚΑΙ SLAVE, ΒΛΕΠΕ ΚΕΦΑΛΑΙΟ 'ΠΡΟΓΡΑΜΜΑΤΙΣΜΟΣ ΠΑΡΑΜΕΤΡΩΝ')</p>	<p>38 - ΤΙΜΗ ΠΟΥ ΟΡΙΣΤΗΚΕ ΣΤΗ ΠΑΡΑΜΕΤΡΟ P13</p>	<p>ΤΙΜΗ ΣΕ HERTZ (1HZ = 30 RPM)</p>

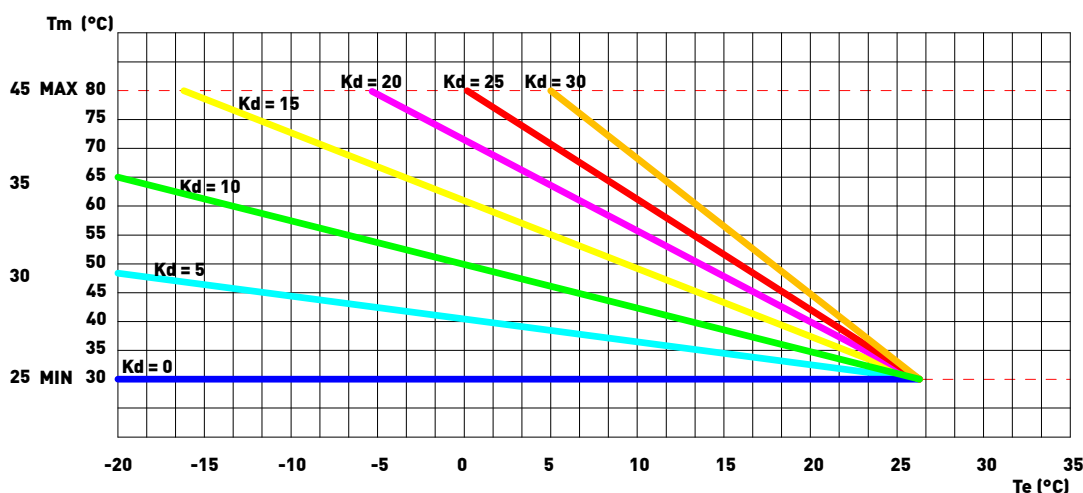


2.ΠΡΩΤΗ ΕΝΑΥΣΗ

ΠΑΡΑΜΕΤΡΟΣ	ΠΕΡΙΓΡΑΦΗ	ΡΥΘΜΙΣΗ	ΛΕΙΤΟΥΡΓΙΑ
P13	<p>ΡΥΘΜΙΣΗ ΜΕΓΙΣΤΗΣ ΤΑΧΥΤΗΤΑΣ ΑΝΕΜΙΣΤΗΡΑ ΣΤΗ ΘΕΡΜΑΝΣΗ</p> <p>ΜΕΣΩ ΑΥΤΗΣ ΤΗΣ ΠΑΡΑΜΕΤΡΟΥ ΟΡΙΖΕΤΕ ΤΗΝ ΜΕΓΙΣΤΗ ΤΑΧΥΤΗΤΑ ΤΟΥ ΑΝΕΜΙΣΤΗΡΑ ΣΤΗ ΘΕΡΜΑΝΣΗ ΠΟΥ ΑΝΤΙΣΤΟΙΧΕΙ ΣΤΗ ΜΕΓΙΣΤΗ ΙΣΧΥ ΤΟΥ ΚΑΥΣΤΗΡΑ ΟΤΑΝ ΓΙΝΕΤΑΙ ΕΠΙΛΟΓΗ ΛΕΙΤΟΥΡΓΙΑΣ ΘΕΡΜΑΝΣΗΣ. (ΒΛΕΠΕ ΚΕΦΑΛΑΙΟ 'ΔΙΑΓΡΑΜΜΑ ΘΕΡΜΙΚΟΥ ΦΟΡΤΙΟΥ (KW)– ΣΥΧΝΟΤΗΤΑΣ ΑΝΕΜΙΣΤΗΡΑ (HZ)').</p> <p>Η ΤΙΜΗ ΕΙΝΑΙ ΠΡΟΡΥΘΜΙΣΜΕΝΗ ΣΕ ΣΧΕΣΗ ΜΕ ΤΗΝ ΟΡΙΣΜΕΝΗ ΙΣΧΥ (ΒΛΕΠΕ ΠΑΡΑΜΕΤΡΟ Ρ00) ΚΑΙ ΤΟΝ ΤΥΠΟ ΑΕΡΙΟΥ (ΒΛΕΠΕ ΠΑΡΑΜΕΤΡΟ Ρ02)</p> <p>(ΤΡΟΠΟΠΟΙΕΙΤΕ ΤΗΝ ΤΙΜΗ ΤΗΣ ΠΑΡΑΜΕΤΡΟΥ ΚΑΙ ΣΤΟΥΣ ΔΥΟ ΠΙΝΑΚΕΣ ΕΛΕΓΧΟΥ MASTER ΚΑΙ SLAVE, ΒΛΕΠΕ ΚΕΦΑΛΑΙΟ 'ΠΡΟΓΡΑΜΜΑΤΙΣΜΟΣ ΠΑΡΑΜΕΤΡΩΝ')</p>	ΤΙΜΗ ΠΟΥ ΟΡΙΣΤΗΚΕ ΣΤΗ ΠΑΡΑΜΕΤΡΟ P12 - 290	ΤΙΜΗ ΣΕ HERTZ (1HZ = 30 RPM)
P14	<p>ΡΥΘΜΙΣΗ ΒΗΜΑΤΟΣ ΕΚΚΙΝΗΣΗΣ</p> <p>ΜΕΣΩ ΑΥΤΗΣ ΤΗΣ ΠΑΡΑΜΕΤΡΟΥ ΟΡΙΖΕΤΕ ΤΗ ΤΑΧΥΤΗΤΑ ΤΟΥ ΑΝΕΜΙΣΤΗΡΑ ΚΑΤΑ ΤΗ ΔΙΑΡΚΕΙΑ ΤΗΣ ΦΑΣΗΣ ΕΝΑΥΣΗΣ.</p> <p>Η ΤΙΜΗ ΕΙΝΑΙ ΠΡΟΡΥΘΜΙΣΜΕΝΗ ΣΕ ΣΧΕΣΗ ΜΕ ΤΗΝ ΟΡΙΣΜΕΝΗ ΙΣΧΥ. (ΒΛΕΠΕ ΠΑΡΑΜΕΤΡΟ Ρ00) ΚΑΙ ΤΟΝ ΤΥΠΟ ΑΕΡΙΟΥ (ΒΛΕΠΕ ΠΑΡΑΜΕΤΡΟ Ρ02)</p> <p>(ΤΡΟΠΟΠΟΙΕΙΤΕ ΤΗΝ ΤΙΜΗ ΤΗΣ ΠΑΡΑΜΕΤΡΟΥ ΚΑΙ ΣΤΟΥΣ ΔΥΟ ΠΙΝΑΚΕΣ ΕΛΕΓΧΟΥ MASTER ΚΑΙ SLAVE, ΒΛΕΠΕ ΚΕΦΑΛΑΙΟ 'ΠΡΟΓΡΑΜΜΑΤΙΣΜΟΣ ΠΑΡΑΜΕΤΡΩΝ')</p>	ΤΙΜΗ ΠΟΥ ΟΡΙΣΤΗΚΕ ΣΤΗ ΠΑΡΑΜΕΤΡΟ P10 - 255	ΤΙΜΗ ΣΕ HERTZ (1HZ = 30 RPM)
P15	<p>ΛΕΙΤΟΥΡΓΙΑ ΚΑΤΑ ΤΗΣ ΝΟΣΟΥ ΤΟΥ ΛΕΓΕΩΝΑΡΙΟΥ</p> <p>(ΜΟΝΟ ΜΕ ΣΥΣΤΗΜΑ ΤΡΟΦΟΔΟΣΙΑΣ ΑΠΟΜΑΚΡΥΣΜΕΝΟΥ ΜΠΟΙΛΕΡ)</p> <p>ΜΕΣΩ ΑΥΤΗΣ ΤΗΣ ΠΑΡΑΜΕΤΡΟΥ ΕΝΕΡΓΟΠΟΙΕΙΤΕ Η ΑΠΕΝΕΡΓΟΠΟΙΕΙΤΕ ΤΗ ΘΕΡΜΙΚΗ ΑΠΟΣΤΕΙΡΩΣΗ ΚΑΤΑ ΤΗΣ ΝΟΣΟΥ ΤΟΥ ΛΕΓΕΩΝΑΡΙΟΥ ΤΟΥ ΜΠΟΙΛΕΡ. ΚΑΘΕ 7 ΗΜΕΡΕΣ Η ΘΕΡΜΟΚΡΑΣΙΑ ΤΟΥ ΝΕΡΟΥ ΣΤΟ ΕΣΩΤΕΡΙΚΟ ΤΟΥ ΜΠΟΙΛΕΡ ΑΝΕΒΑΙΝΕΙ ΠΑΝΩ ΑΠΟ ΤΟΥΣ 60 °C ΜΕ ΣΧΕΤΙΚΟ ΚΙΝΔΥΝΟ ΕΓΚΑΥΜΑΤΟΣ. Η ΕΝ ΛΟΓΩ ΛΕΙΤΟΥΡΓΙΑ ΤΟΥ Ζ.Ν.Χ. ΑΠΑΙΤΕΙ ΠΡΟΣΟΧΗ ΠΡΟΣ ΑΠΟΦΥΓΗ ΑΤΥΧΗΜΑΤΩΝ (ΝΑ ΕΝΗΜΕΡΩΘΟΥΝ ΟΙ ΧΡΗΣΤΕΣ). ΕΝΔΕΧΟΜΕΝΩΣ ΓΙΝΕΤΑΙ ΕΓΚΑΤΑΣΤΑΣΗ ΘΕΡΜΟΣΤΑΤΙΚΗΣ ΒΑΛΒΙΔΑΣ ΣΤΗΝ ΕΞΟΔΟ ΤΟΥ Ζ.Ν.Χ. ΓΙΑ ΝΑ ΑΠΟΦΕΥΓΟΝΤΑΙ ΠΙΘΑΝΑ ΕΓΚΑΥΜΑΤΑ</p>	0 - 1	0 = ΑΠΕΝΕΡΓΟΠΟΙΗΜΕΝΗ 1 = ΕΝΕΡΓΟΠΟΙΗΜΕΝΗ (ΕΡΓΟΣΤΑΣΙΑΚΗ ΡΥΘΜΙΣΗ)



ΠΑΡΑΜΕΤΡΟΣ	ΠΕΡΙΓΡΑΦΗ	ΡΥΘΜΙΣΗ	ΛΕΙΤΟΥΡΓΙΑ
P16	<p>ΟΡΙΣΜΟΣ ΚΑΜΠΥΛΗΣ ΚΛΙΜΑΤΙΚΗΣ ΑΝΤΙΣΤΑΘΜΙΣΗΣ (ΜΟΝΟ ΜΕ ΕΞΩΤΕΡΙΚΟ ΑΙΣΘΗΤΗΡΑ ΣΥΝΕΔΕΜΕΝΟ)</p> <p>ΠΡΟΒΛΕΠΕΤΑΙ Η ΣΥΝΔΕΣΗ ΜΕ ΑΙΣΘΗΤΗΡΑ ΕΞΩΤΕΡΙΚΗΣ ΘΕΡΜΟΚΡΑΣΙΑΣ (ΒΛΕΠΕ ΚΕΦΑΛΑΙΟ 'ΗΛΕΚΤΡΟΛΟΓΙΚΕΣ ΣΥΝΔΕΣΕΙΣ') Ο ΟΠΟΙΟΣ ΜΕΤΑΒΑΛΛΕΙ ΑΥΤΟΜΑΤΑ ΤΗ ΘΕΡΜΟΚΡΑΣΙΑ ΑΝΑΧΩΡΗΣΗΣ ΣΕ ΣΧΕΣΗ ΜΕ ΤΗΝ ΕΞΩΤΕΡΙΚΗ ΘΕΡΜΟΚΡΑΣΙΑ. ΤΟ ΜΕΓΕΘΟΣ ΤΗΣ ΔΙΟΡΘΩΣΗΣ ΕΞΑΡΤΑΤΑΙ ΑΠΟ ΤΗ ΟΡΙΣΜΕΝΗ ΤΙΜΗ ΤΗΣ ΘΕΡΜΟΥΡΥΘΜΙΣΗΣ ΚD (ΒΛΕΠΕ ΔΙΑΓΡΑΜΜΑ).</p> <p>Η ΕΠΙΛΟΓΗ ΤΗΣ ΚΑΜΠΥΛΗΣ ΚΑΘΟΡΙΖΕΤΑΙ ΑΠΟ ΤΗ ΜΕΓΙΣΤΗ ΘΕΡΜΟΚΡΑΣΙΑ ΑΝΑΧΩΡΗΣΗΣ T_m ΚΑΙ ΤΗΝ ΕΛΑΧΙΣΤΗ ΕΞΩΤΕΡΙΚΗ ΘΕΡΜΟΚΡΑΣΙΑ T_e ΛΑΜΒΑΝΟΝΤΑΣ ΥΠΟΨΙΝ ΤΟ ΒΑΘΜΟ ΜΟΝΩΣΗΣ ΤΗΣ ΟΙΚΙΑΣ.</p> <p>ΟΙ ΤΙΜΕΣ ΤΩΝ ΘΕΡΜΟΚΡΑΣΙΩΝ ΑΝΑΧΩΡΗΣΗΣ T_m ΑΝΑΦΕΡΟΝΤΑΙ ΣΕ ΕΓΚΑΤΑΣΤΑΣΕΙΣ STANDARD 30-80 °C Η' ΕΝΔΟΔΑΠΕΔΙΕΣ ΕΓΚΑΤΑΣΤΑΣΕΙΣ 25-45 °C. Η ΤΥΠΟΛΟΓΙΑ ΤΗΣ ΕΓΚΑΤΑΣΤΑΣΗΣ ΟΡΙΖΕΤΑΙ ΜΕΣΩ ΤΗΣ ΠΑΡΑΜΕΤΡΟΥ Ρ03</p>	0 - 30	(ΕΡΓΟΣΤΑΣΙΑΚΗ ΡΥΘΜΙΣΗ ΣΤΟ 15) Η ΑΡΙΘΜΗΣΗ ΤΗΣ ΤΙΜΗΣ ΑΝΤΙΣΤΟΙΧΕΙ ΣΤΙΣ ΚΑΜΠΥΛΕΣ 'ΚD' ΤΟΥ ΔΙΑΓΡΑΜΜΑΤΟΣ (ΒΛΕΠΕ ΔΙΑΓΡΑΜΜΑ)



P17	<p>ΔΙΑΦΟΡΙΚΟ ΣΕΤΡΟΙΝΤ ΠΛΑΡΟΧΗΣ BOILER</p> <p>(ΜΟΝΟ ΜΕ ΣΥΣΤΗΜΑ ΤΡΟΦΟΔΟΣΙΑΣ ΑΠΟΜΑΚΡΥΣΜΕΝΟΥ ΜΠΟΙΛΕΡ)</p> <p>ΜΕΣΩ ΑΥΤΗΣ ΤΗΣ ΠΑΡΑΜΕΤΡΟΥ ΟΡΙΖΕΤΑΙ ΤΗΝ ΤΙΜΗ ΕΝΑΡΞΗΣ ΠΡΟΤΕΡΑΙΟΤΗΤΑΣ ΤΟΥ ΜΠΟΙΛΕΡ ΣΕ ΣΧΕΣΗ ΜΕ ΤΟ ΣΕΤΡΟΙΝΤ ΤΟΥ Ζ.Ν.Χ. ΠΟΥ ΟΡΙΣΤΗΚΕ ΑΠΟ ΤΟΝ ΧΡΗΣΤΗ</p>	3 - 15	ΤΙΜΗ ΣΕ °C (ΕΡΓ. ΡΥΘΜΙΣΗ 5 °C)
-----	-------------------------------------------------------------------------------------------------------------------------------------------------------------------------------------------------------------------------------------------------------------------	--------	--------------------------------



2.ΠΡΩΤΗ ΕΝΑΥΣΗ

ΠΑΡΑΜΕΤΡΟΣ	ΠΕΡΙΓΡΑΦΗ	ΡΥΘΜΙΣΗ	ΛΕΙΤΟΥΡΓΙΑ
P18	ΕΝΕΡΓΟΠΟΙΗΣΗ INDUSTRIAL BUS 0 -10V ΜΕΣΩ ΑΥΤΗΣ ΤΗΣ ΠΑΡΑΜΕΤΡΟΥ ΕΝΕΡΓΟΠΟΙΕΙΤΑΙ Η ΑΠΕΝΕΡΓΟΠΟΙΕΙΤΑΙ Η ΕΙΣΟΔΟΣ ΤΟΥ INDUSTRIAL BUS 0-10 V ΓΙΑ ΝΑ ΟΡΙΣΤΕΙ ΜΕΣΩ ΕΞΩΤΕΡΙΚΟΥ BUS Η ΙΣΧΥΣ ΤΟΥ ΚΑΥΣΤΗΡΑ Η Η ΘΕΡΜΟΚΡΑΣΙΑ ΑΝΑΧΩΡΗΣΗΣ	0 - 2	0 = ΑΠΕΝΕΡΓΟΠΟΙΗΜΕΝΗ (ΕΡΓΟΣΤΑΣΙΑΚΗ ΡΥΘΜΙΣΗ) 1 = ΛΕΙΤΟΥΡΓΙΑ ΕΛΕΓΧΟΥ ΘΕΡΜΟΚΡΑΣΙΑΣ 2 = ΛΕΙΤΟΥΡΓΙΑ ΕΛΕΓΧΟΥ ΙΣΧΥΟΣ
P19	ΣΕΤΡΟΙΝΤ ΕΛΑΧΙΣΤΟ ΘΕΡΜΑΝΣΗΣ ΜΕΣΩ ΑΥΤΗΣ ΤΗΣ ΠΑΡΑΜΕΤΡΟΥ ΟΡΙΖΕΤΑΙ Η ΕΛΑΧΙΣΤΗ ΘΕΡΜΟΚΡΑΣΙΑ ΘΕΡΜΑΝΣΗΣ ΠΟΥ ΜΠΟΡΕΙ ΝΑ ΡΥΘΜΙΣΕΙ Ο ΧΡΗΣΤΗΣ	20 - 40	ΤΙΜΗ ΣΕ °C
P20	ΣΕΤΡΟΙΝΤ ΜΕΓΙΣΤΟ ΘΕΡΜΑΝΣΗΣ ΜΕΣΩ ΑΥΤΗΣ ΤΗΣ ΠΑΡΑΜΕΤΡΟΥ ΟΡΙΖΕΤΑΙ Η ΜΕΓΙΣΤΗ ΘΕΡΜΟΚΡΑΣΙΑ ΘΕΡΜΑΝΣΗΣ ΠΟΥ ΜΠΟΡΕΙ ΝΑ ΡΥΘΜΙΣΕΙ Ο ΧΡΗΣΤΗΣ	40 - 90	ΤΙΜΗ ΣΕ °C
P21	ΣΕΤΡΟΙΝΤ ΜΕΓΙΣΤΟ Ζ.Ν.Χ. (ΜΟΝΟ ΜΕ ΣΥΣΤΗΜΑ ΤΡΟΦΟΔΟΣΙΑΣ ΑΠΟΜΑΚΡΥΣΜΕΝΟΥ ΜΠΟΙΛΕΡ) ΜΕΣΩ ΑΥΤΗΣ ΤΗΣ ΠΑΡΑΜΕΤΡΟΥ ΟΡΙΖΕΤΑΙ Η ΜΕΓΙΣΤΗ ΘΕΡΜΟΚΡΑΣΙΑ Ζ.Ν.Χ. ΠΟΥ ΜΠΟΡΕΙ ΝΑ ΡΥΘΜΙΣΕΙ Ο ΧΡΗΣΤΗΣ	45 - 75	ΤΙΜΗ ΣΕ °C
P22	ΣΕΤΡΟΙΝΤ ΔΤ ΑΝΑΧΩΡΗΣΗΣ-ΕΠΙΣΤΡΟΦΗΣ ΜΕΣΩ ΑΥΤΗΣ ΤΗΣ ΠΑΡΑΜΕΤΡΟΥ ΟΡΙΖΕΤΑΙ Η ΔΙΑΦΟΡΑ ΘΕΡΜΟΚΡΑΣΙΑΣ ΜΕΤΑΞΥ ΑΝΑΧΩΡΗΣΗΣ ΚΑΙ ΕΠΙΣΤΡΟΦΗΣ	0 10 - 40	0 = ΑΠΕΝΕΡΓΟΠΟΙΗΜΕΝΗ ΤΙΜΗ ΣΕ °C
P23	ΕΛΑΧΙΣΤΗ ΤΑΧΥΤΗΤΑ ΑΝΑΛΟΓΙΚΟΥ ΚΥΚΛΟΦΟΡΗΤΗ ΜΕΣΩ ΑΥΤΗΣ ΤΗΣ ΠΑΡΑΜΕΤΡΟΥ ΟΡΙΖΕΤΑΙ Η ΕΛΑΧΙΣΤΗ ΤΙΜΗ ΤΑΧΥΤΗΤΑΣ ΤΟΥ ΑΝΑΛΟΓΙΚΟΥ ΚΥΚΛΟΦΟΡΗΤΗ ΟΤΑΝ ΥΠΑΡΧΕΙ ΖΗΤΗΣΗ ΛΕΙΤΟΥΡΓΙΑΣ ΘΕΡΜΑΝΣΗΣ	50 - 70	ΤΙΜΗ ΣΕ %
P24	ΜΕΓΙΣΤΗ ΤΑΧΥΤΗΤΑ ΑΝΑΛΟΓΙΚΟΥ ΚΥΚΛΟΦΟΡΗΤΗ ΜΕΣΩ ΑΥΤΗΣ ΤΗΣ ΠΑΡΑΜΕΤΡΟΥ ΟΡΙΖΕΤΑΙ Η ΜΕΓΙΣΤΗ ΤΙΜΗ ΤΑΧΥΤΗΤΑΣ ΤΟΥ ΑΝΑΛΟΓΙΚΟΥ ΚΥΚΛΟΦΟΡΗΤΗ ΟΤΑΝ ΥΠΑΡΧΕΙ ΖΗΤΗΣΗ ΛΕΙΤΟΥΡΓΙΑΣ ΘΕΡΜΑΝΣΗΣ	70 - 100	ΤΙΜΗ ΣΕ %
P25	ΧΡΟΝΟΣ ΕΛΕΓΧΟΥ ΔΤ ΑΝΑΧΩΡΗΣΗΣ-ΕΠΙΣΤΡΟΦΗΣ ΜΕΣΩ ΑΥΤΗΣ ΤΗΣ ΠΑΡΑΜΕΤΡΟΥ ΟΡΙΖΕΤΑΙ Ο ΧΡΟΝΟΣ ΑΠΟΚΡΙΣΗΣ ΡΥΘΜΙΣΗΣ ΤΟΥ ΚΥΚΛΟΦΟΡΗΤΗ	20 - 100	ΤΙΜΗ ΣΕ ΔΕΥΤΕΡΟΛΕΠΤΑ
P26	ΔΙΕΥΘΥΝΣΗ MODBUS ΜΕΣΩ ΑΥΤΗΣ ΤΗΣ ΠΑΡΑΜΕΤΡΟΥ ΟΡΙΖΕΤΑΙ Η ΔΙΕΥΘΥΝΣΗ ΤΗΣ ΠΛΑΚΕΤΑΣ ΣΤΟ BUS MODBUS ΓΙΑ ΣΥΣΤΟΙΧΙΑ	0 1 - 16	0 = ΑΠΕΝΕΡΓΟΠΟΙΗΜΕΝΗ (ΕΡΓΟΣΤΑΣΙΑΚΗ ΡΥΘΜΙΣΗ) ΑΡΙΘΜΗΣΗ ΛΕΒΗΤΩΝ ΓΙΑ MODBUS



ΠΑΡΑΜΕΤΡΟΣ	ΠΕΡΙΓΡΑΦΗ	ΡΥΘΜΙΣΗ	ΛΕΙΤΟΥΡΓΙΑ
P27	ΠΟΣΟΣΤΟ ΕΝΕΡΓΟΠΟΙΗΣΗΣ ΔΕΥΤΕΡΕΥΟΥΣΑΣ ΜΟΝΑΔΑΣ	60 - 100	ΤΙΜΗ ΣΕ % (ΕΡΓΟΣΤΑΣΙΑΚΗ ΡΥΘΜΙΣΗ ΣΤΟ 85 %)
P28	ΠΟΣΟΣΤΟ ΑΠΕΝΕΡΓΟΠΟΙΗΣΗΣ ΔΕΥΤΕΡΕΥΟΥΣΑΣ ΜΟΝΑΔΑΣ	5 - 40	ΤΙΜΗ ΣΕ % (ΕΡΓΟΣΤΑΣΙΑΚΗ ΡΥΘΜΙΣΗ ΣΤΟ 10 %)
P29	ΕΝΕΡΓΟΠΟΙΗΣΗ ΠΛΑΚΕΤΑΣ MASTER ΜΕ ΠΛΑΚΕΤΑ ΔΙΑΧΕΙΡΙΣΗΣ ΖΩΝΩΝ CRAD	0 - 2	0 = ΑΠΕΝΕΡΓΟΠΟΙΗΜΕΝΗ (ΕΡΓΟΣΤΑΣΙΑΚΗ ΡΥΘΜΙΣΗ) 1 = ΠΛΑΚΕΤΑ ΖΩΝΩΝ CRAD ΣΥΝΔΕΔΕΜΕΝΗ 2 = ΠΛΑΚΕΤΑ ΖΩΝΩΝ CRAD ΣΥΝΔΕΔΕΜΕΝΗ + REMOTE
P30	ΟΡΙΣΜΟΣ ΜΟΝΑΔΑΣ ΜΕΤΡΗΣΗΣ ΘΕΡΜΟΚΡΑΣΙΑΣ ΜΕΣΩ ΑΥΤΗΣ ΤΗΣ ΠΑΡΑΜΕΤΡΟΥ ΟΡΙΖΕΤΑΙ ΤΗ ΜΟΝΑΔΑ ΜΕΤΡΗΣΗΣ ΤΗΣ ΘΕΡΜΟΚΡΑΣΙΑΣ: ΒΑΘΜΟΙ CELSIUS (°C) Η FAHRENHEIT (°F)	0 - 1	0 = °C 1 = °F
P31	ΕΠΙΛΟΓΗ ΧΩΡΑΣ ΜΕΣΩ ΑΥΤΗΣ ΤΗΣ ΠΑΡΑΜΕΤΡΟΥ ΟΡΙΖΟΝΤΑΙ ΑΥΤΟΜΑΤΑ ΟΙ ΠΑΡΑΜΕΤΡΟΙ ΕΛΕΓΧΟΥ ΤΗΣ ΚΑΥΣΗΣ ΣΕ ΣΧΕΣΗ ΜΕ ΤΙΣ ΠΡΟΚΑΘΟΡΙΣΜΕΝΕΣ ΤΙΜΕΣ ΠΟΥ ΙΣΧΥΟΥΝ ΣΤΗΝ ΧΩΡΑ ΕΓΚΑΤΑΣΤΑΣΗΣ ΤΗΣ ΜΟΝΑΔΑΣ	0 - 1	0 = ΑΛΛΗ ΧΩΡΑ 1 = U.S.A. / CANADA
P32	ΤΡΟΠΟΣ ΛΕΙΤΟΥΡΓΙΑΣ Z.N.X. (ΜΟΝΟ ΜΕ ΣΥΣΤΗΜΑ ΤΡΟΦΟΔΟΣΙΑΣ ΑΠΟΜΑΚΡΥΣΜΕΝΟΥ ΜΠΟΙΛΕΡ)	0 - 2	0 = Z.N.X. ΔΙΑΜΕΣΟΥ ΑΙΣΘΗΤΗΡΙΟΥ ΜΠΟΙΛΕΡ 1 = Z.N.X. ΔΙΑΜΕΣΟΥ ΘΕΡΜΟΣΤΑΤΗ 2 = Z.N.X. ΔΙΑΧΕΙΡΙΖΟΜΕΝΟ ΑΠΟ MODBUS
P33	BAUD RATE ΕΠΙΚΟΙΝΩΝΙΑΣ MODBUS ΜΕΣΩ ΑΥΤΗΣ ΤΗΣ ΠΑΡΑΜΕΤΡΟΥ ΕΠΙΛΕΓΕΤΑΙ ΤΟ BAUD RATE ΤΗΣ ΕΠΙΚΟΙΝΩΝΙΑΣ MODBUS ΠΟΥ ΥΠΟΣΤΗΡΙΖΕΤΑΙ ΑΠΟ ΤΗΝ ΟΜΩΝΥΜΗ ΔΙΕΠΑΦΗ (INTERFACE)	0 - 5	0 = 9600 1 = 1200 2 = 2400 3 = 4800 4 = 9600 5 = 19200



2.ΠΡΩΤΗ ΕΝΑΥΣΗ

ΠΑΡΑΜΕΤΡΟΣ	ΠΕΡΙΓΡΑΦΗ	ΡΥΘΜΙΣΗ	ΛΕΙΤΟΥΡΓΙΑ
P34	ΚΑΤΑΣΤΑΣΗ ΣΥΝΔΕΣΗΣ ΤΗΣ ΒΟΗΘΗΤΙΚΗΣ ΗΛΙΑΚΗΣ ΠΛΑΚΕΤΑΣ ΜΕΣΩ ΑΥΤΗΣ ΤΗΣ ΠΑΡΑΜΕΤΡΟΥ ΕΝΕΡΓΟΠΟΙΕΙΤΑΙ Η ΒΟΗΘΗΤΙΚΗ ΠΛΑΚΕΤΑ ΓΙΑ ΤΗΝ ΕΠΕΚΤΑΣΗ ΤΩΝ ΠΟΡΩΝ ΤΟΥ ΕΛΕΓΚΤΗ MODBUS. ΟΤΑΝ Η ΒΟΗΘΗΤΙΚΗ ΗΛΙΑΚΗ ΠΛΑΚΕΤΑ ΣΥΝΔΕΕΤΑΙ ΣΤΗΝ ΠΛΑΚΕΤΑ ΜΙΑΗ406 ΑΥΤΟΜΑΤΑ Η ΤΙΜΗ ΑΥΤΗΣ ΤΗΣ ΠΑΡΑΜΕΤΡΟΥ ΓΙΝΕΤΑΙ '1', ΑΛΛΑ ΣΤΗΝ ΠΕΡΙΠΤΩΣΗ ΠΟΥ Η ΒΟΗΘΗΤΙΚΗ ΗΛΙΑΚΗ ΠΛΑΚΕΤΑ ΑΚΟΛΟΥΘΩΣ ΑΠΟΣΥΝΔΕΘΕΙ Η ΘΘΟΝΗ ΤΟΥ ΠΙΝΑΚΑ ΕΛΕΓΧΟΥ ΤΟΥ ΛΕΒΗΤΑ ΘΑ ΠΡΟΒΑΛΛΕΙ ΤΟ ΣΦΑΛΜΑ 'Ε31'. ΣΕ ΑΥΤΗ ΤΗΝ ΠΕΡΙΠΤΩΣΗ Η ΓΙΑ ΤΗΝ ΑΠΕΝΕΡΓΟΠΟΙΗΣΗ ΤΟΥ ΣΦΑΛΜΑΤΟΣ 'Ε31' ΠΡΕΠΕΙ ΝΑ ΟΡΙΣΕΤΕ ΧΕΙΡΟΚΙΝΗΤΑΤΗ ΤΙΜΗ ΤΗΣ ΠΑΡΑΜΕΤΡΟΥ ΣΕ '0'	0 - 1	0 = ΑΠΟΥΣΑ 1 = ΠΑΡΟΥΣΑ